

# 第五单元达标测试卷

时间:40 分钟 满分:100 分

## 一、想一想,填一填。(每空 1 分,共 24 分)

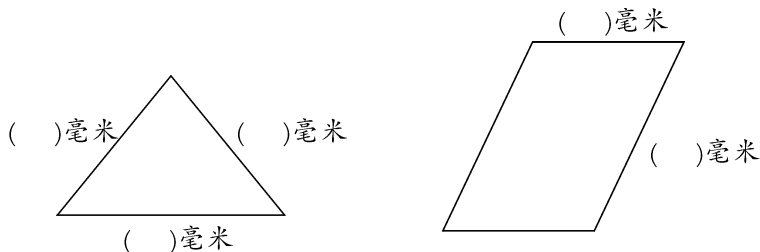
- 我们已经学过的长度单位有( )、( )、( )和( )。
- $2\text{ 分米}=(\text{ })\text{ 厘米}$        $60\text{ 厘米}=(\text{ })\text{ 分米}$        $3\text{ 米}=(\text{ })\text{ 分米}$   
 $(\text{ })\text{ 厘米}=40\text{ 毫米}$        $5\text{ 厘米}=(\text{ })\text{ 毫米}$        $(\text{ })\text{ 分米}=8\text{ 米}$
- 在○里填上“ $>$ ”“ $<$ ”或“ $=$ ”。  
 $7\text{ 分米}\bigcirc 7\text{ 米}$        $98\text{ 分米}\bigcirc 10\text{ 分米}$        $100\text{ 毫米}\bigcirc 1\text{ 分米}$   
 $8\text{ 毫米}\bigcirc 6\text{ 厘米}$        $1\text{ 分米}\bigcirc 90\text{ 毫米}$        $32\text{ 分米}\bigcirc 3\text{ 米}$
- 在( )里填上合适的单位。  
一本练习本厚 3( )。      一层房子高 3( )。  
一个文具盒宽 7( )。      一个茶杯高 1( )。  
一块糖长 40( )。      一个食指约宽 8( )。  
一个火柴盒长 50( )。      一本《格林童话》长 2( )。

## 二、判一判。(对的在括号里画“√”,错的画“×”)(每题 1 分,共 6 分)

- 10 毫米和 1 分米一样长。 ( )
- 一个篮球场长 28 分米。 ( )
- 线段都可以量出长度。 ( )
- 量比较长的物体可以用“毫米”作单位。 ( )
- 100 毫米和 10 厘米一样长。 ( )
- 一根铁丝长 10 厘米,用去了 10 毫米,还剩下 9 厘米。 ( )

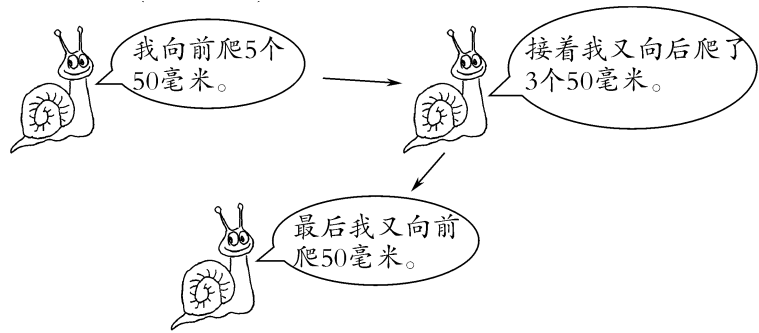
## 三、量一量,画一画。(每题 10 分,共 20 分)

- 量出下面的指定边的长度。



- (1)画一条长 45 毫米的线段。      (2)画一条比 1 分米短 4 厘米的线段。

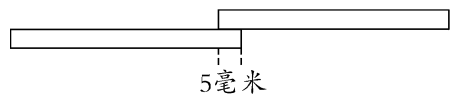
四、帮我算一算。(共 12 分)



小朋友们,我最终前进了( )毫米,如果改用“厘米”作单位,是( )厘米。

五、生活中的数学。(第 4 题 11 分,其余每题 9 分,共 38 分)

1. 小刚已经跑了 970 米,小宇比小刚少跑 70 米。小宇跑了多少米?
2. 在 1 米长的钢筋上截取 3 分米长的一段后,还剩多少分米?
3. 小明身高 75 厘米,小兰比小明高 15 厘米。小兰的身高是多少分米?
4. 把两根长都是 50 毫米的铁条焊接为一根,焊接头(如下图)用去 5 毫米。焊接后铁条长多少毫米?



### 第五单元达标测试卷

一、1. 米 分米 厘米 毫米

2. 20 6 30 4 50 80

3.  $<$   $>$   $=$   $<$   $>$   $>$

4. 毫米 米 厘米 分米

毫米 毫米 毫米 分米

二、1.  $\times$  2.  $\times$  3.  $\checkmark$  4.  $\times$  5.  $\checkmark$  6.  $\checkmark$

三、略 四、150 15

五、1. 900 米 2. 7 分米

3. 9 分米 4. 95 毫米